

## تقييم قبلي في مادة الرياضيات السنة الثالثة

العمليات العمودية:		
	<p><b>السند 01 :</b> لسامي 460 مي و لسليم أقل منه بـ 120 مي .</p> <p>① كم يملك سليم؟</p> <p>.....</p> <p>② كم يملك الولدان معا؟</p> <p>.....</p>	<p>مع 1</p> <p>مع 2</p> <p>□□</p> <p>مع 1</p> <p>مع 2</p>
	<p><b>السند 02 :</b> اشترى سامي مرطبة بـ 250 مي .</p> <p>③ كم بقي لسامي؟</p> <p>.....</p>	<p>□□</p> <p>مع 1</p> <p>مع 2</p>
	<p><b>السند 03 :</b> اشترى سليم صورا ثمنها أكثر من ثمن المرطبة بـ 70 مي .</p> <p>④ ماهو ثمن الصّور؟</p> <p>.....</p> <p>⑤ كم بقي لسليم؟</p> <p>.....</p> <p>⑥ ماهو ثمن المرطبة و الصّور معا؟</p> <p>.....</p>	<p>□□</p> <p>مع 1</p> <p>مع 2</p> <p>□□</p> <p>مع 1</p>

٧ هل يستطيع الولدان شراء مثلجة بالمبالغ المتبقية لهما

مع 2

ثمنها 250 مي ؟

مع 1

مع 2

٨ أعلل إجابتي ؟

مع 5

٩ أربط بسهم بين المبلغ المالي و القطع النقدية الممثلة له ؟

مع 3

20 50 100 100 500

460 مي

10 50 100 100 100 100

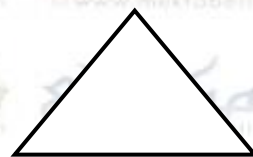
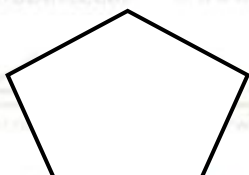
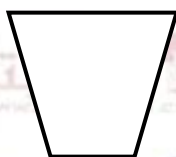
530 مي

10 20 500

770 مي

مع 4

السند 04 : اشترى الولدان صناديق فارغة هي التالية :



10 اكتب داخل كل صندوق عدد أضلاعه ؟

جدول إسناد الأعداد

المجموع	التميز	معايير الحد الأدنى						المعايير م. التملك	الحساب	
		مع 5	مع 4	مع 3	مع 2	مع 1	الدّهني			
	0	0	0	0	0	0	0	---	0	
	2	1	1	0.5	0.5	0.5	0.5	+ --	2   1	
		2	2	1	1	1	1	++ -	3	
20	4	3	3	1.5	1.5	1.5	1.5	+++	4	