

تقييم قبلي في مادة الرياضيات السنة الثانية





السند 1: بمناسبة عيد ميلاد ريان اتّجه الأصدقاء الثلاثة أحمد وفرح و عمر إلى المتجر وشروى كلّ واحد منهم هدية .
أرجع التّاجر للأصدقاء الثلاثة مجموعة من القطع النقدية .

عمر	فرح	أحمد
		
51 مي	48 ميمي

التعلّيمية: أحسب المبلغ المتبقي لأحمد .

أكمل القطع النّقدية النّاقصة لفرح .
أمثّل بأقل قطع نقدية المقدار المالي المتبقي لعمر .
أرتّب المبالغ المالية تصاعدياً .

السند 2: رأى الأطفال عند التاجر هذه السلع :

			
10 مي	15 مي	7 مي	40 مي

شروى أحمد علكة وصورة وشرت فرح شكلاطة وقطعة حلوى .

التعلّيمية : أحسب ثمن مشتريات أحمد :

أحسب ثمن مشتريات فرح :

أقارن بين المبلغين :

السند 3: في يوم الحفلة شرت أم ريان 17 بالونة حمراء و 12 بالونة زرقاء لتزيين الغرفة .

التعلّيمية : أحسب العدد الجملي للبالونات :

أرتب أعداد العملية ترتيبا تصاعديًا :

السند 4 : شري الأب 31 قطعة من حلوى الفراولة و قطع حلوى الليمون تفوق عدد قطع الفراولة بـ 15 .

التعليمة : أبحث عن مجموع عدد قطع الحلوى :

السند 5 : قدم المدعوون إلى المنزل فاستقبلهم ريان بحفاوة .

شارك في هذا الاحتفال 24 ولدا و 12 بنت و 10 كهول

التعليمة : أحسب العدد الجملي للضيوف :

أرتب ترتيب العملية ترتيبا تنازليا :

هل تكفي قطع الحلوى كل الحاضرين ؟

لأن.....

السند 6 : قدّم عمر هدية لصديقه ريان تنمّثل في مجموعة من مكعبات زرقاء اللون عددها

24 بينما أهدت له فرح مكعبات صفراء اللون وعددها 12 .

أقرأ المسألة و أصوغ لها سؤالاً مناسباً ثم أجيب عنه :

السؤال :

الجواب :

العملية :

السند 7 : استمتع الأصدقاء كثيرا في الحفل .



التعليمة : ألون الجسم الذي أمامه .

أرسم زهرة باليد اليسرى لريان .

أحيط بخط مغلق الهدية التي على يمينه .