


امتحان تربية مدنية السنة الخامسة الثلاثي الثالث

السَّنَد 1 :

امتطى علاء وعادل وهدية الحافلة للقيام بجولة ترفيهية في المدينة. توقفت الحافلة ونزل الأصدقاء .

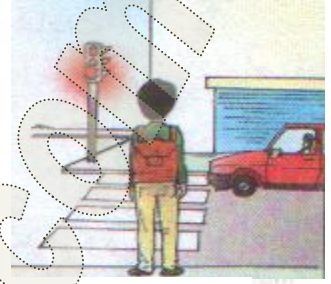
التعليمية 1-1: أتأمل المشاهد وأذكر السلوك المناسب لكل واحد منها حتى يتجنب الأصدقاء الأخطار .



على مستعمل الطريق



على المترجل أن



على المترجل أن

.....

.....

.....

السَّنَد 2 :

أثناء تجوالهم زار الأطفال عدة أماكن : الحديقة العمومية - المغارة الكبرى - المتحف الوطني - قاعة الألعاب - السق المركزية - الشركة العقارية للبناء .

التعليمية 1-2: أصنّف هذه الأماكن والمؤسسات

ملك خاص	ملك عمومي
.....
.....
.....

السَّنَد 3 : في الحديقة العمومية تناول الأصدقاء غداءهم . هم عادل بإلقاء الفواضل تحت شجرة بينما فتحت هدية حنفية الحديقة العمومية لغسل الأواني وسهت عن غلقها عندئذ تدخل علاء وقال :

التعليمية 1-3: أكمل قول علاء :

- يستفيد جميع المواطنين من الملك وعلينا واجب عليه . وتميته مسؤولية وبذلك

التعلّية 2-3 : أذكر سلوكا يؤلمني في :

المدرسة

الطريق العام

الحديقة العمومية

السند 4 : في الأثناء أخرج علاء من حافظته خريطة البلاد التونسية وطلب من الأصدقاء تحديد موقع مدينتهم سوسة .

التعلّية 1-4 : أكمل موقع مدينة سوسة .

تقع مدينة سوسة على ساحل البحر . فيحدها من الشرق و..... مدينة

القيروان ولايتي نابل وزغوان من ومن الجنوب ولاية.....

السند 5 :

عندها رغبت عديلة في معرفة التقسيم الترابي والإداري للبلاد التونسية .

التعلّية 5 : أساعد عديلة في إتمام المعلومات المناسبة : " معتمديات - عمادات - المعتمدية - 23 -

"


عدد ولايات البلاد التونسية وكل ولاية تنقسم إلى مجموعة وتنقسم

ب..... بدورها إلى.....

السند 6 :

تتوسط الحديقة العمومية علم بلادنا .

التعلّية 1-6 : أتم تلوين العلم .



التعلّية 2-6 : للعلم رموز . أصل يسهم المكوّن برمزه .

- اللون الأحمر
- النجمة
- اللون الأبيض
- الهلال
- قواعد الإسلام
- الدفاع عن الوطن بأرواحنا
- انتمائنا العربي
- دماء الشهداء
- السلام والأمان